

# 111年國中教育會考

## 社會科試題本

**請不要翻到次頁！**

**讀完本頁的說明，聽從監試委員的指示才開始作答！**

※ 請先確認你的答案卡、准考證與座位號碼是否一致無誤。

請閱讀以下測驗作答說明：

測驗說明：

這是國中教育會考社會科試題本，試題本採雙面印刷，共14頁，有54題選擇題，每題都只有一個正確或最佳的答案。測驗時間從 **08：30** 到 **09：40**，共 **70** 分鐘。作答開始與結束請聽從監試委員的指示。

注意事項：

1. 所有試題均為四選一的選擇題，答錯不倒扣。
2. 試題中所附圖形，如有附上比例尺，以比例尺為依據作答；若無比例尺，則該圖僅作為參考，不代表實際大小。
3. 可利用試題本中空白部分計算，切勿在答案卡上計算。
4. 依試場規則規定，答案卡上不得書寫姓名座號，也不得作任何標記。故意汙損答案卡、損壞試題本，或在答案卡上顯示自己身分者，該科考試不予計列等級。

作答方式：

請依照題意從四個選項中選出一個正確或最佳的答案，並用 **2B** 鉛筆在答案卡上相應的位置畫記，請務必將選項塗黑、塗滿。如果需要修改答案，請使用橡皮擦擦拭乾淨，重新塗黑答案。例如答案為 **B**，則將 **Ⓑ** 選項塗黑、塗滿，即：**Ⓐ ● Ⓒ Ⓓ**

以下為錯誤的畫記方式，可能導致電腦無法正確判讀。如：

- Ⓐ Ⓑ Ⓒ Ⓓ — 未將選項塗滿
- Ⓐ Ⓑ Ⓒ Ⓓ — 未將選項塗黑
- Ⓐ ● Ⓒ Ⓓ — 未擦拭乾淨
- Ⓐ ● Ⓑ Ⓒ Ⓓ — 塗出選項外
- Ⓐ ● ● Ⓒ Ⓓ — 同時塗兩個選項

請聽到鐘聲響起，於試題本右上角方格內填寫准考證末兩碼，再翻頁作答

一、單題：(1~43題)

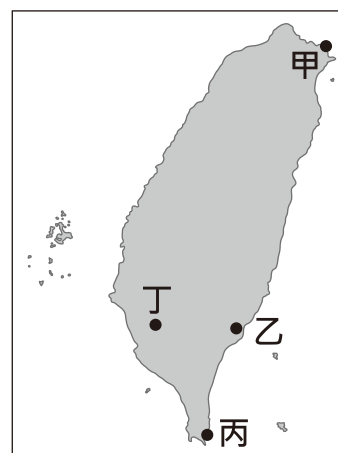
1. 某宗教的全球年度大型集會活動在2017年約有235萬人參與。表(一)為該年參與者的來源國及其人數，此一宗教活動最可能為下列何者？

表(一)

國家	人數	國家	人數
沙烏地阿拉伯	600,108	伊朗	86,500
印尼	221,000	土耳其	79,000
巴基斯坦	179,210	奈及利亞	79,000
印度	170,000	阿爾及利亞	36,000
孟加拉	127,198	摩洛哥	31,000
埃及	108,000	其他	635,106

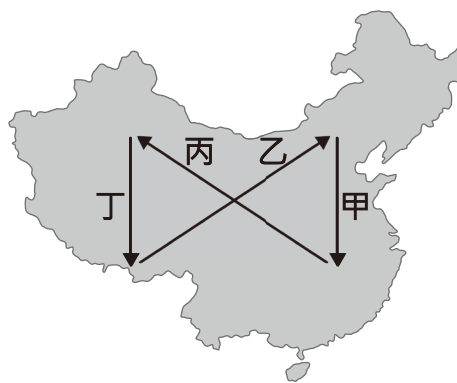
- (A)佛教浴佛節  
(B)印度教大壺節  
(C)伊斯蘭教朝覲  
(D)天主教聖誕彌撒

2. 臺灣一處具有特殊泥岩惡地景觀的地點，於2020年7月由地方政府審議通過為地質公園。該地位處板塊交界附近及海岸山脈最南端，泥岩夾雜外來岩塊的地層，為該地質公園主要特色。上述地質公園最可能位於圖(一)中何處？



圖(一)

3. 中國的氣候受地形、緯度、距海遠近等因素影響，而有空間上的差異。圖(二)中甲、乙、丙、丁哪一路線夏季氣候的空間變化趨勢，具有明顯的「由溼熱，變乾熱」的特性？



圖(二)

4. 根據經濟部水利署的統計，截至2019年底，臺灣40座主要水庫中，淤積率超過30%的共有15座，例如霧社水庫淤積率達74.8%、烏山頭水庫達49.2%，顯示臺灣水庫淤積程度嚴重，影響水庫蓄水功能。下列何項策略最能有效改善上述現象？

- (A)強化集水區崩塌裸露地的植被復育  
(B)擴大在河川下游種植防風林的面積  
(C)減少都市不透水鋪面，增加雨水入滲  
(D)增加地面水源供應，以取代地下水源

5. 圖(三)為1980年代臺灣某雜誌的封底，藉此表達該雜誌社的政治訴求。圖中內容所呈現的訴求，最可能與下列何者有關？
- (A)中央民意代表改選以及總統直選  
(B)政府應該妥善處理「二二八事件」  
(C)政府推行國語運動使得母語式微  
(D)消弭戒嚴體制對人民權利的限制



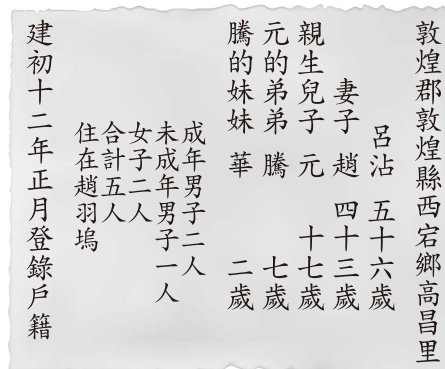
我們要求

新聞及言論自由的四項標準：

1. 人民辦報刊不必先經核准；如有所謂登記，也只是報告性質。
2. 新聞不必事先檢查。
3. 對報刊任何處分，必須交由司法獨立審判。
4. 報刊如有違法被法庭處罰者，只限報業負責人，不影響報刊生存。

圖(三)

6. 圖(四)為中國歷史上某種官方文件的內容，根據圖中內容判斷，當時政府製作此官方文件的主要目的最可能為下列何者？
- (A)配合科舉選拔人才，促進社會的流動  
(B)掌握人力作為徵集賦稅和勞役的依據  
(C)推行封建制度並保障貴族世襲的權力  
(D)根據儒家思想，實施以仁為政的措施



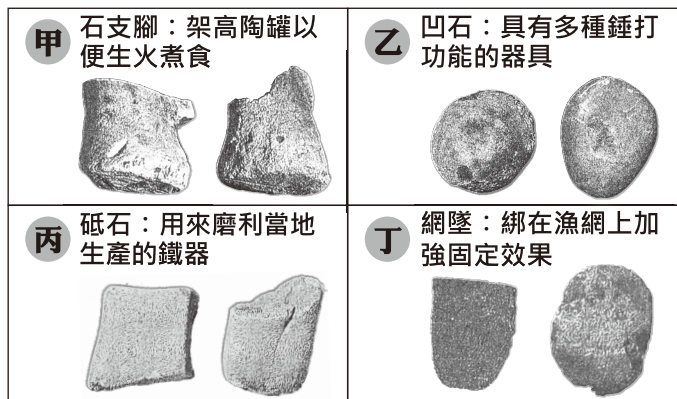
圖(四)



建初十二年：西元416年。

7. 「柯因奈語」(Koine)，又稱「通用希臘語」，是大約發源於西元前四世紀的國際性語言。此一語言因某帝國在政治上統一了愛琴海地區各希臘城邦，融合了該地區多種方言發展而成；其後又伴隨帝國對外武力征服，向埃及、西亞等地區擴散傳播，對於往後數百年間科學、文學和宗教的發展影響深遠。上述的「某帝國」，最可能為下列何者？
- (A)波斯帝國  
(B)蒙兀兒帝國  
(C)亞歷山大帝國  
(D)阿茲提克帝國

8. 圖(五)是臺灣某考古遺址中，同一文化層出土的四種石器。圖中何者最適合作為判斷該文化層所屬時代的證據？
- (A)甲  
(B)乙  
(C)丙  
(D)丁



圖(五)

9. 某宮廟因違法擴建道路及廟宇建築，涉嫌竊占國土及濫墾山坡地，相關單位多次介入協調，要求廟方自行拆除，但該廟負責人認為廟地選址及擴建的決定皆為神明指示，堅決不願退讓，於是相關單位除了開罰六萬元外，並將負責人移送法辦。上述內容最可能是關於下列哪二者之間的衝突？
- (A)環境保育與經濟發展 (B)法律規範與宗教信仰  
(C)傳統習俗與倫理道德觀念 (D)信仰宗教自由與人民財產權

10. 國中生小安寄了一封陳情信給某位公職人員，信中敘述父親因沉迷賭博，導致家中債臺高築，害他的父母離異、家庭破碎，希望有人能幫幫他，讓父親不再沉溺賭海。該名公職人員收到信後立刻啟動偵辦，循線破獲非法賭場，並依法對賭場業者與賭徒提起公訴。根據上述內容判斷，小安寄信的對象應是下列何者？
- (A)法官 (B)律師  
(C)檢察官 (D)警察局局長

11. 創新科技公司為了讓其產品「LED省電燈泡」的銷售量增加，在各大報紙刊登廣告，內容如圖(六)所示。根據圖中內容判斷，該公司最可能是採取下列何種方式來達成目標？

憑此廣告購買創新牌LED省電燈泡

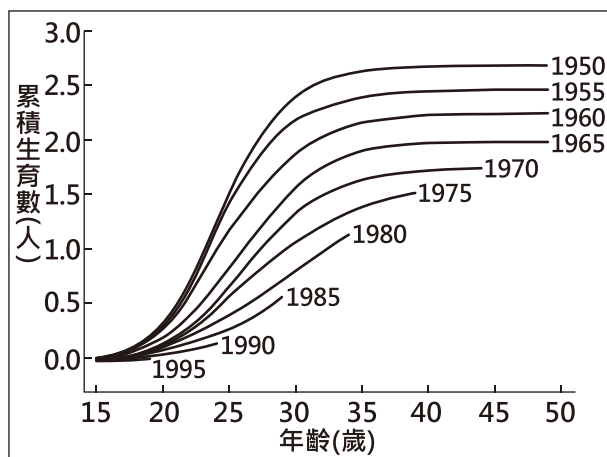
可享 原價200元/個  
**七折優惠價** 優惠價 140元/個

一次購買10個 再優惠100元  
促銷活動期間109/11/1~109/11/30

圖(六)

- (A)降低成本 (B)價格競爭  
(C)建立品牌形象 (D)延長營業時間

12. 圖(七)呈現某國不同年分出生的婦女，在育齡期間累積的生育數。為了改變圖中資料呈現的趨勢以維持人口結構穩定，下列何者最可能是未來該國政府採行的作法？



圖(七)

13. 表(二)是四位同窗好友的相關資料。若僅根據表中內容判斷，何者最可能不曾具有我國國籍？

表(二)

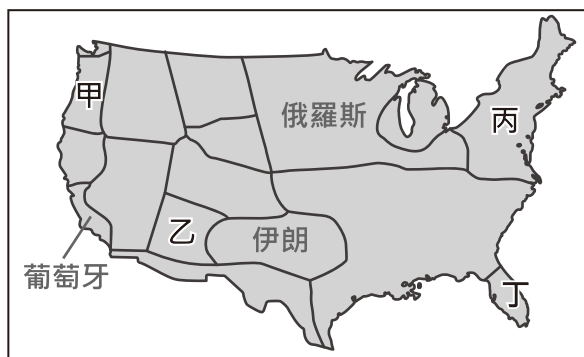
姓名	出生地	出生時父母的國籍	現況
王大軒	洛杉磯	中華民國	擔任立法委員
李大賢	臺中	美國	在澳洲工作
陳小涵	臺北	美國	擔任高雄市市議員
林小潔	西雅圖	中華民國	在日本留學

- (A)王大軒  
(B)李大賢  
(C)陳小涵  
(D)林小潔

14. 歐盟基於公眾健康及動物福利等理由，於2012年起，禁止境內農民以傳統格子籠方式飼養蛋雞，並立法規定市售雞蛋必須明確標示其飼養方式，讓消費者可以在平飼(即室內放養蛋雞)、放牧(除室內空間外，還提供蛋雞戶外活動空間)等友善生產的蛋品之間做出選擇。上述友善飼養方式逐漸在臺灣推行，但所產出的蛋品在臺灣市占率仍不高，其原因最可能為下列何者？

(A)食安問題頻傳 (B)蛋品品質不佳  
(C)蛋品售價較高 (D)飲食習慣改變

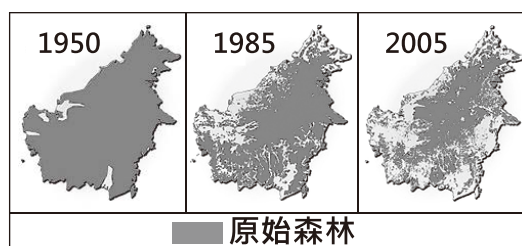
15. 美國具有多樣化的氣候類型，圖(八)是將美國各區域與世界上其他國家的氣候特徵相比，把具有類似氣候特徵的國家標示在該區域上。臺灣最可能標示在圖中甲、乙、丙、丁何處？



圖(八)

(A)甲 (B)乙 (C)丙 (D)丁

16. 婆羅洲島分屬印尼、汶萊與馬來西亞三國，圖(九)為其原始森林不同時期面積的變化。圖中原始森林的變化趨勢與下列該島何種變化趨勢最為相似？

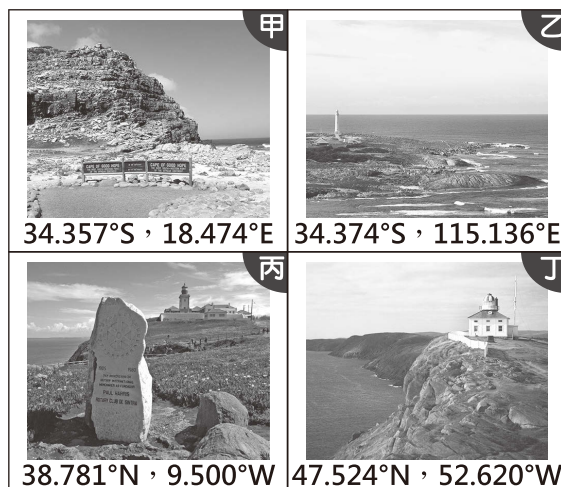


圖(九)

(A)油田開採的面積  
(B)都市聚落的範圍  
(C)野生動物的棲地範圍  
(D)熱帶作物的種植面積

17. 臺灣某茶商為了提高自有茶園的茶葉產量，以供應國內日益成長的罐裝茶及手搖茶市場需求，且能與由越南、斯里蘭卡等產區進口的低價茶葉競爭，因而導入滴灌技術，精準計算用水及肥料使用量。此外，也利用農業機具栽種茶苗，並以無人機巡視，噴藥及採收時間則以網路平臺管理。上述各項措施，最主要可達到下列何種成效？

(A)利於傳統茶園轉型成休閒農場  
(B)降低勞力成本占總成本的比例  
(C)提升茶葉品質以提高單位價格  
(D)增加出口至東協國家的茶葉量



圖(十)

18. 圖(十)為全球四個著名岬角的位置資訊，其中何者位於歐亞大陸西部海岸？

(A)甲 (B)乙  
(C)丙 (D)丁

19. 「歷史事實」與「歷史解釋」的區別，在於歷史事實是客觀呈現過去發生的事件；而歷史解釋則是後人運用歷史資料，對相關歷史事件進行的詮釋與評價。下列敘述中，何者最適合歸類為「歷史事實」？

一些唐朝名人追求突厥式生活的熱情，竟然使他們能忍受不舒適的帳篷生活。 (甲)  
 承乾太子在生活起居各方面，稱得上是一位傑出的模仿者，他寧願說突厥語而 (乙)  
不說漢語，並且在皇宮的空地上搭建突厥帳篷，穿著突厥可汗的服飾，拿著佩 (丙)  
刀切割煮熟的羊肉。但是具有這種奇特愛好的人，在當時畢竟是很有限的。 (丁)

- (A)甲 (B)乙 (C)丙 (D)丁



突厥：歐亞大陸上的一支游牧民族；  
可汗：部分游牧民族統治者的稱號。

20. 圖(十一)為臺灣某年報紙刊登的二則社會新聞。根據內容判斷，新聞報導的事情最早可能發生於下列何時？
- (A)日本統治時期  
 (B)清帝國統治時期  
 (C)中華民國政府遷臺初期  
 (D)中華民國政府推動十大建設期間

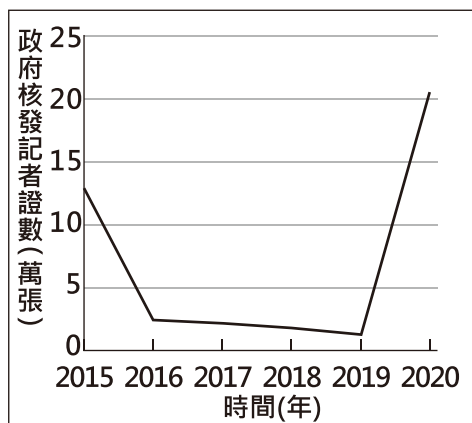
某位三十四歲男性在艋舺玩樂而散盡積蓄，想在自來水水源地尋短，卻因為害怕而放棄。最後因為在龍匣口街白吃白喝，遭店家報警逮捕。

某位二十五歲男性竊取兄長現金一百二十圓，帶十九歲的女友私奔，其兄長與警察在臺南火車站發現他的行蹤。他當時正想要跳上開往打狗的列車逃脫。

圖(十一)

21. 日本料理「天婦羅」，是將食材裹上澱粉漿之後下鍋油炸，這種料理源自於天主教徒在齋戒期間，將食材油炸後食用。在沒有冷凍技術的時代，因為油炸食物容易保存，所以水手於遠洋航行時也會準備油炸魚類作為糧食。葡萄牙的天主教徒最初到日本傳教與貿易時，同時傳入這種料理。「天婦羅」傳入日本的時代背景，最可能是下列何者？
- (A)外國艦隊脅迫幕府開港，促使日本推動明治維新  
 (B)西方各國展開海外探險，建立到達東方的新航線  
 (C)日本受大唐文化的薰染，效法唐朝推動制度改革  
 (D)民主陣營為防堵共產勢力，派遣艦隊駐防太平洋
22. 一列火車在德國官方秘密安排下，從蘇黎世出發前往俄國，車上乘客包括列寧及其布爾什維克黨同志，這些人曾因為反對俄國政府而流亡海外。列寧等人沿途經過德國、瑞典、芬蘭，最後抵達俄國的首都彼得格勒(今聖彼得堡)。半年後，他們領導革命，推翻臨時政府，組織新的政權，對俄國產生重大影響。當時德國官方安排這班列車的目的，最可能為下列何者？
- (A)與俄國結盟對抗拿破崙  
 (B)欲緩和冷戰東西對立局勢  
 (C)遵守《德蘇互不侵犯條約》  
 (D)為使俄國退出第一次世界大戰

23. 甲國政府自2019年起，要求記者須通過關於國家領袖思想的考試後，才能取得記者證，藉以強化他們對國家領袖的效忠。圖(十二)是近年該國政府核發記者證數量的變化，而表(三)則是無國界記者組織提出的全球新聞自由指數報告中，該國近年的排名狀況，排名越前面代表新聞自由程度越高。根據相關資訊判斷，關於甲國政府的此項作法，下列敘述何者最合理？



圖(十二)

表(三)

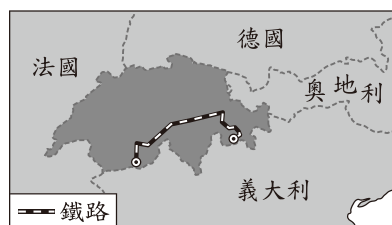
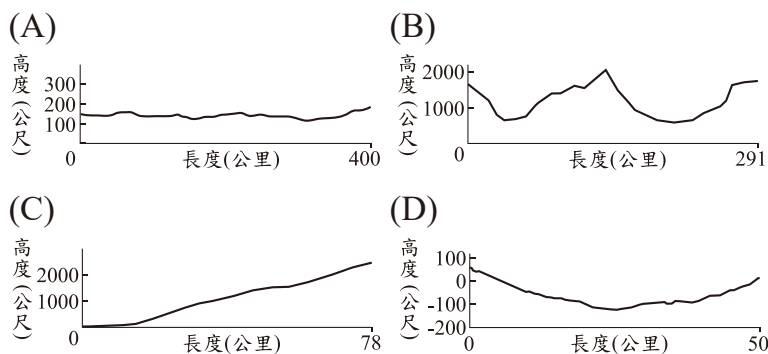
時間(年)	新聞自由指數排名
2015	全球倒數第5
2016	全球倒數第5
2017	全球倒數第5
2018	全球倒數第5
2019	全球倒數第4
2020	全球倒數第4

- (A)政府藉由立法規範，以保障記者的新聞自由  
 (B)政府採取獎勵政策，以促使新聞產業蓬勃發展  
 (C)政府削減新聞記者人數，以便管控媒體報導內容  
 (D)政府透過管控記者思想，以影響閱聽人接收的新聞
24. 表(四)呈現阿森在近三屆我國總統選舉資格的變化情形。根據表中內容判斷，阿森在第14屆至第15屆之間，最可能發生了下列哪一件事？
- (A)被政黨開除黨籍  
 (B)遭法院監護宣告  
 (C)遷移戶籍至其他縣市  
 (D)遭法院判處褫奪公權
25. 我國國會可對中央政府部分官員的人事提名案行使同意權，並在投票表決前，藉由提問來審查被提名人是否適任。根據我國公職人員的法定職權判斷，下列哪一個問題的提問對象最可能是大法官被提名人？
- (A)如何提升違法官員彈劾案件的辦案效率  
 (B)如何落實嚴謹審核中央政府年度總決算  
 (C)我國仍維持死刑刑罰是否違反基本人權  
 (D)公務人員的選才制度是否有改善的空間

表(四)

屆次	總統選舉 參選資格	總統選舉 投票資格
13	不具備	具備
14	不具備	具備
15	不具備	不具備

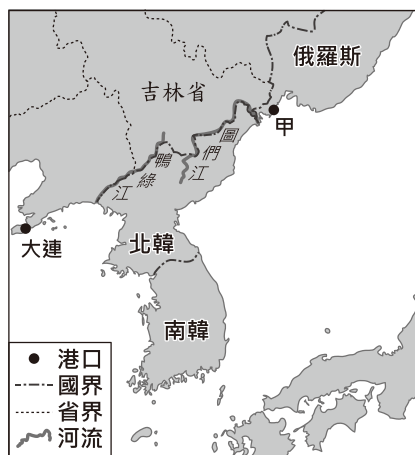
26. 圖(十三)為某條鐵路的路線圖，該鐵路全線的海拔高度變化最可能為下列何者？



圖(十三)

27. 2014年中國吉林省與俄羅斯合作擴建圖(十四)中的甲港口，目前出口貨物可不經由大連港，透過甲港口可大幅縮短與鄰近國家部分港口的航運時間。擴建甲港口除上述目的外，最可能還含下列何優勢？

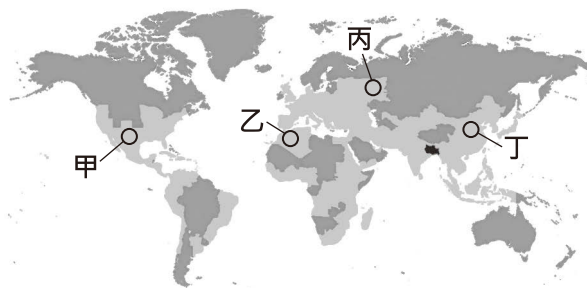
- (A)作為俄羅斯船隻通往大西洋的出海口
- (B)加速俄羅斯將開發重心轉向歐俄平原
- (C)作為中、俄兩國鴨綠江流域貨物出入的港口
- (D)提供中國船隻藉由此港口通往北極海的捷徑



圖(十四)

28. 2014年世界上只有5%的人口居住在圖(十五)中的深灰色區域；而相同數量的人口則居住在圖中黑色區域。小齊想要在地圖上的淺灰色區域，以圓圈標示另一個人口數量最相近的範圍，則他標示在下列何地最為適宜？

- (A)甲
- (B)乙
- (C)丙
- (D)丁



圖(十五)

29. 世界氣象組織(WMO)定義熱浪標準為連續5日的每日最高氣溫，皆高於歷年最暖月的最高氣溫平均值 $5^{\circ}\text{C}$ 以上。表(五)為臺北測站1981至2010年氣溫相關資料，根據上述定義，臺北在下列何種情形即達到此一熱浪標準？

表(五)

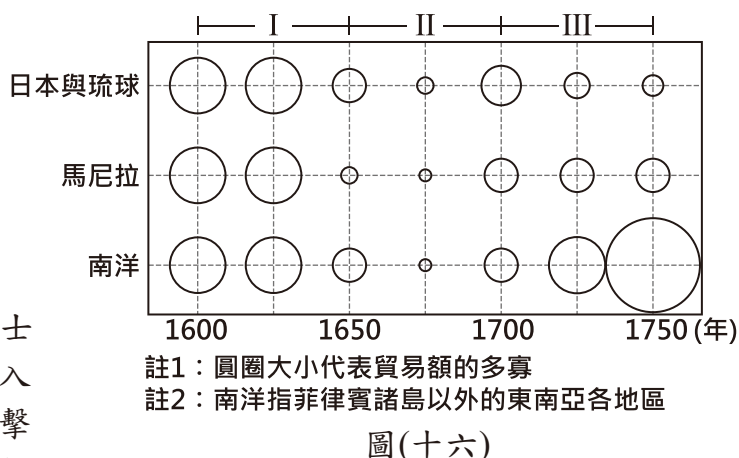
月分	1	2	3	4	5	6	7	8	9	10	11	12	年平均
氣溫( $^{\circ}\text{C}$ )	16.1	16.5	18.5	21.9	25.2	27.7	29.6	29.2	27.4	24.5	21.5	17.9	23.0
最高氣溫( $^{\circ}\text{C}$ )	19.1	19.6	22.1	25.7	29.2	32.0	34.3	33.8	31.1	27.5	24.2	20.7	26.6
最低氣溫( $^{\circ}\text{C}$ )	13.9	14.2	15.8	19.0	22.3	24.6	26.3	26.1	24.8	22.3	19.3	15.6	20.4

- (A)連續5天出現 $31.6^{\circ}\text{C}$ 以上高溫
- (B)連續5天出現 $34.3^{\circ}\text{C}$ 以上高溫
- (C)連續5天出現 $34.6^{\circ}\text{C}$ 以上高溫
- (D)連續5天出現 $39.3^{\circ}\text{C}$ 以上高溫



30. 以下是中國天津某年慶祝元旦的相關報導：「政府要求各機關及各民眾團體，在元旦上午參加慶祝中華民國成立的紀念大會。當晚民眾提燈遍遊街市，高呼『勿忘國恥』、『抵制日貨』、『打倒貪官汙吏』、『打倒燒香化紙、磕頭拜年的惡習』等口號。各街市商號張貼標語、懸燈結綵，國民黨黨旗和國旗飄揚天際，蔚為盛況。」上述內容最可能是描繪下列何時的景象？
- (A) 1861-1895年自強運動期間 (B) 1928-1937年十年建設期間  
(C) 1958-1961年農工大躍進期間 (D) 1966-1976年文化大革命期間

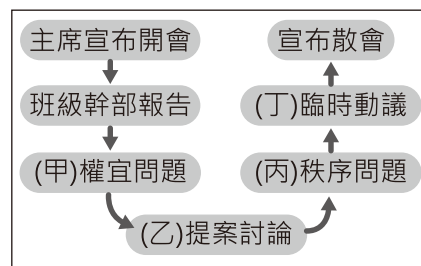
31. 圖(十六)是某時期中國海外貿易的進出口總額統計圖。觀察圖中各區域與中國的貿易概況，分析造成圖中第「II」階段變化的主要原因，最可能與下列何者有關？



- (A) 朝廷驅逐在華的耶穌會傳教士  
(B) 玉米、馬鈴薯等美洲作物傳入  
(C) 義和團事變對社會經濟的衝擊  
(D) 鄭氏勢力擁兵東南與清廷對抗

32. 謝先生是王小姐的前夫，但謝先生屢次侵擾王小姐的住處，甚至還到她上班的地方騷擾，最後謝先生因違反保護令的相關規定，被判處拘役四十天。根據上述內容判斷，下列敘述何者正確？
- (A) 謝先生必須為自己的違法行為負起刑事責任  
(B) 王小姐因警察局所核發的保護令而獲得保障  
(C) 謝先生若不服判決可向地方法院提出民事訴訟  
(D) 王小姐可依《性別平等教育法》向謝先生求償

33. 開班會時，有些同學在玩牌、有些同學在吃東西，阿偉認為吵雜聲使他聽不清楚其他人的發言內容，影響到他參與會議的權利。圖(十七)是當日班會的部分過程，阿偉應是在圖中哪一階段要求主席處理上述問題？

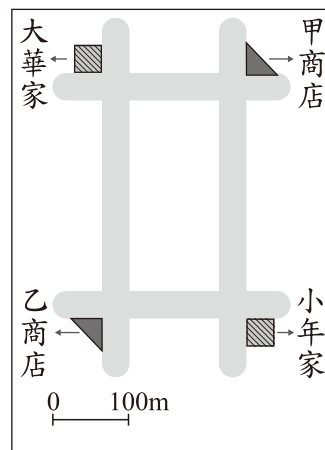


- (A) 甲 (B) 乙  
(C) 丙 (D) 丁

34. 某日阿蔚透過網路觀看立法院的議事實況轉播，根據我國現行法律規定，他最可能看見下列何者的轉播情況？
- (A) 審理總統、副總統彈劾案 (B) 表決對行政院的糾正提案  
(C) 召開行政院會議規畫施政方針 (D) 行政院部會首長進行施政報告

35. 「紓解訟源」是近年司法改革的重點之一，其目的是希望讓民眾在提起訴訟前，能透過公正且具有與法院確定判決相同效力的途徑來解決糾紛，這種方式既可避免耗時的訴訟程序，也能減少司法資源的浪費。下列哪種處理方式最符合「紓解訟源」的作法？
- (A)不服行政處分，向上級機關提起訴願  
 (B)偷竊財物遭逮，嫌犯希望失主別追究  
 (C)車禍無人受傷，雙方私下和解賠償損失  
 (D)遭友積欠債務，至調解委員會聲請調解

36. 圖(十八)為大華與小年住家附近的地圖，甲、乙二商店均販賣大華與小年想購買的某項商品，且該商品在甲商店的售價比乙商店高。若大華僅想就近買到商品，而小年卻只想以便宜的價格購買，則對此二人而言，到哪一間商店購物的機會成本較高？
- (A)皆為甲商店  
 (B)皆為乙商店  
 (C)大華：甲商店，小年：乙商店  
 (D)大華：乙商店，小年：甲商店



圖(十八)

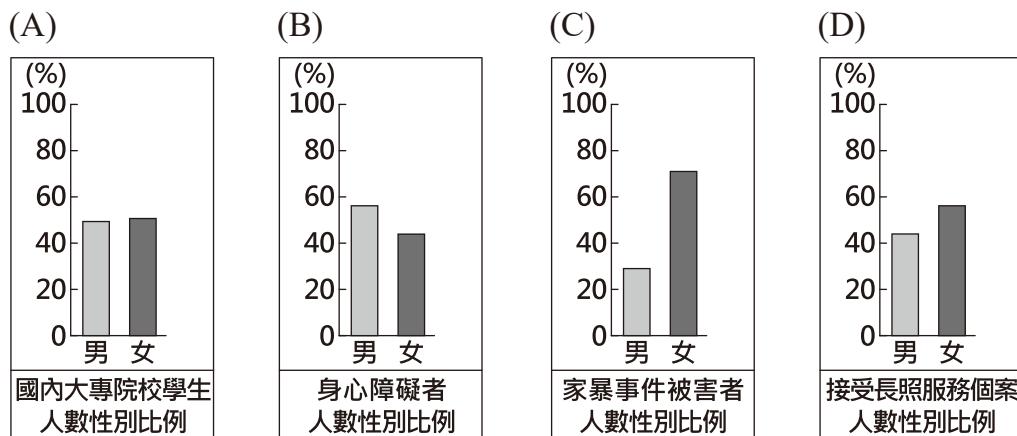
37. 中國近代某一文章提到：「政府假借預備立憲的美名卻實行中央集權，假借推行新政卻搜刮民間錢財，對外則割讓土地，並出賣採礦權與鐵路經營權。人民反對政策，可能會被處死；如果人民自己出錢出力興修鐵路，又會被官方沒收。政府應該要保護人民，結果人民反而受到政府的傷害，如此不顧人民生命、財產的政府，誰還能忍受呢！」上文的主要訴求最可能是下列何者？
- (A)因對外戰爭受到挫敗，提倡學習西方的軍事及工業技術  
 (B)推動制度層面的改革，以解決自強運動改革不彰的問題  
 (C)對改革結果感到失望，體認到革命也是救國的途徑之一  
 (D)主張全面改革思想文化，提倡西方科學精神與白話文學

38. 圖(十九)中的硬幣為位在南半球的某國於2019年所發行。自歐洲人十八世紀移入該地以來，已有約130種原住民語絕跡。該國希望藉由此硬幣的發行，提醒人民保存、維護和活化原住民語的重要性。上述硬幣最可能由下列何國發行？
- (A)印度  
 (B)秘魯  
 (C)澳洲  
 (D)菲律賓



圖(十九)

39. 小強參加辯論比賽，辯論主題是「目前甲國社會尚未達到性別平等」，若他是站在正方的立場，須提出支持主題的論點，下列四張關於甲國不同面向的統計圖，何者最適合小強作為強化論點的證據？



40. 圖(二十)為小成在研究2017年非洲貿易現況時所發現的某些現象。非洲各國採取下列何項措施，最可能有助於改善非洲這些現象？

💡 肯亞是世界主要的花卉生產國，但奈及利亞的花卉有八成來自荷蘭；奈及利亞生產大量棕櫚油，但肯亞的棕櫚油主要進口自馬來西亞。

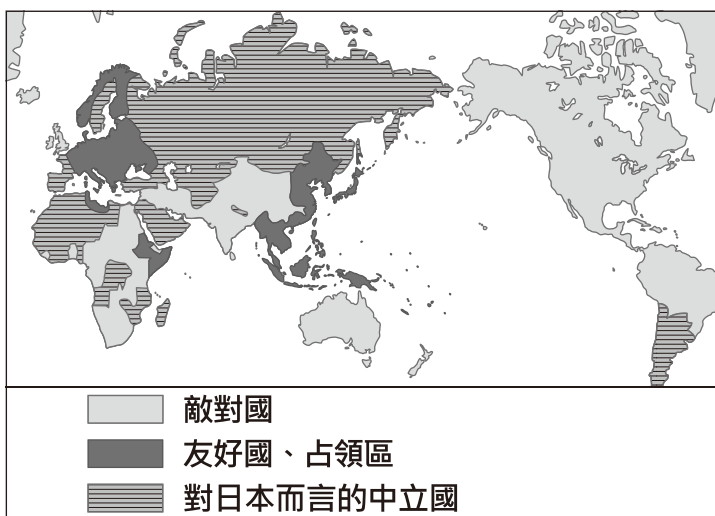
💡 以洲內貿易的比例而言，非洲僅有15%，亞洲是58%，歐洲高達67%。

💡 目前非洲大部分國家的貿易對象主要為歐盟國家、中國及美國。

圖(二十)

- (A) 限定與非洲其他國家的進口配額，保護本國產業  
 (B) 改善與其他洲的交通運輸，降低貨物的運輸成本  
 (C) 強化邊境的管制措施，防止鄰國非法貿易的進行  
 (D) 簽署非洲自由貿易協定，降低非洲國家間的關稅

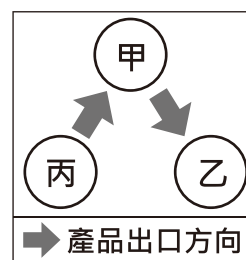
41. 圖(二十一)是日本繪製的第二次世界大戰形勢圖，三種圖例代表與日本三種不同關係。從圖中標示的圖例，可得知這是1941年底太平洋戰爭爆發後的世界形勢，最主要的判斷依據應為下列何者？



圖(二十一)

- (A) 英國和德國使用不同圖例  
 (B) 英國和美國使用相同圖例  
 (C) 朝鮮和日本使用相同圖例  
 (D) 德國和日本使用相同圖例

42. 圖(二十二)呈現甲、乙、丙三國的貿易情況。若甲國受匯率變動的影響，使得某段時間的進、出口商品數量皆大幅增加，則根據圖中內容判斷，該段時間甲國貨幣的匯率變化，最可能為下列何者？
- (A)相對乙、丙兩國貨幣皆升值  
 (B)相對乙、丙兩國貨幣皆貶值  
 (C)相對乙國貨幣升值，但相對丙國貨幣貶值  
 (D)相對乙國貨幣貶值，但相對丙國貨幣升值



圖(二十二)

43. 圖(二十三)是某一時期的政治宣傳漫畫，圖中「大手」代表當時的國際組織，領導各國對抗侵略者。根據內容判斷，該國際組織最可能是下列何者？
- (A)聯合國 (B)國際聯盟  
 (C)華沙公約組織 (D)石油輸出國家組織



圖(二十三)

二、題組：(44~54題)

閱讀下列選文，回答第 44 至 45 題：

1855年，美商威廉士洋行的商船航行至臺灣府安平外海，並派人上岸詢問是否能在當地貿易。經過安排，船長和臺灣道裕鐸在打狗會面，裕鐸在會談中告知船長，外國商船如果直接在安平停泊，並不符合規定，臺灣道將受到朝廷處罰，但裕鐸和打狗地方官員可以私下允許外國商船，停靠遠離政治核心的打狗進行貿易。

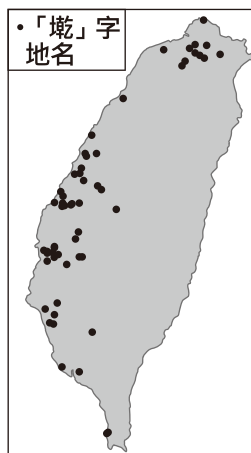
然而，實際上官員後來往往放任外國商船停靠安平，未能嚴格執行禁令。過了數年，新任的臺灣道孔昭慈於1859年，又要求外國商船「不准像之前一樣在安平附近起卸貨物」。有位英國商人分析：「這並非臺灣道刻意禁止外商在臺灣府貿易，而是因為府城當地泉州人組成的商人團體，跑去向福建巡撫告狀，指控外國商船收購物產，造成物價上漲，影響了本地商人的生意。」

臺灣道：臺灣建省前，在臺灣的最高文官。

44. 根據上文中裕鐸與洋行的會談結果，當時臺灣對外貿易的情況，最可能是下列何者？
- (A)當時臺灣尚未對外開港，裕鐸嚴禁洋商在臺貿易  
 (B)當時臺灣尚未對外開港，實際上洋商已來臺貿易  
 (C)當時臺灣已經對外開港，洋商可在臺灣各港口貿易  
 (D)當時臺灣已經對外開港，裕鐸仍阻撓洋商在臺貿易
45. 根據上文，外國商人分析臺灣道重申外國商船不得在安平附近起卸貨物的原因，最可能與下列何者有關？
- (A)安平與鹿耳門泥沙淤積，易造成擱淺  
 (B)府城商人透過「郊」來維護自身利益  
 (C)日本出兵臺灣南部，清帝國提高警戒  
 (D)許多府城商人組成「郊」與洋行合作

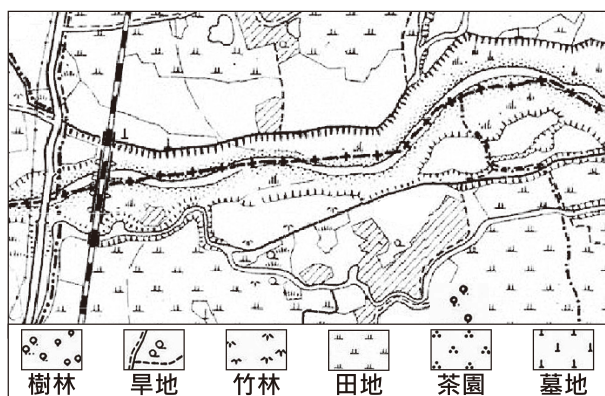
閱讀下列選文，回答第 46 至 48 題：

臺灣和地形有關的地名，多是古人依照當時的地理環境所命名，隨著時間變化，原先的山丘、河或湖可能會變遷甚至消失，僅剩下地名而已。因此，透過地名可推估過去的地景樣貌，例如「墘」字代表位於某一地物或水體的旁邊，如厝墘、田墘、港墘與溪墘等，圖(二十四)為「墘」字地名的分布圖。

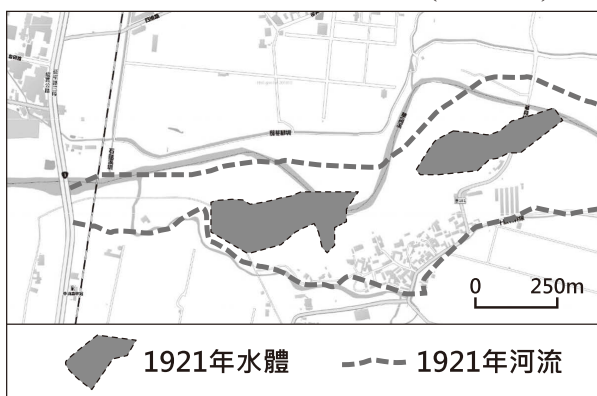


圖(二十四)

小瑜家鄉地名也有「墘」字，雖然現今已經看不到當時的地貌；為了印證上述命名原則，她找到1921年日治時期家鄉的地圖(圖二十五)，並將當時的河流及水體標示在現今的電子地圖(圖二十六)上，發現與上述原則是一致的。



圖(二十五)



圖(二十六)

46. 根據圖(二十四)中「墘」字地名的分布判斷，下列關於「墘」字地名的推論何者最為合理？
- (A) 分布於閩南族群集中區，屬閩南族系的地名
  - (B) 分布於客家族群集中區，屬客家族系的地名
  - (C) 分布於現今原住民居住地，為原住民的地名
  - (D) 受西班牙占領影響，為西班牙語音譯的地名
47. 根據圖(二十五)判斷，在日治時期小瑜的家鄉最可能以哪種產業活動為主？
- (A) 水稻耕作
  - (B) 樟腦提煉
  - (C) 茶葉種植
  - (D) 海鹽晒製
48. 根據上文中地名的命名原則及圖(二十五)與圖(二十六)的資訊判斷，小瑜的家鄉地名最可能為下列何者？
- (A) 海墘
  - (B) 潭墘
  - (C) 岸壁墘
  - (D) 黑礁墘

閱讀下列選文，回答第 49 至 51 題：

過去以茶文化為主的亞洲人，對咖啡的接受度越來越高，更逐漸在各地形成獨特的咖啡文化。近年臺灣也吹起喝咖啡的風潮，路上常看到人手一杯咖啡。其實早在日治時期，日本就已將飲用咖啡的習慣帶入臺灣，戰後有業者創立供內用的專業咖啡店，還有廠商生產即溶與罐裝咖啡，但直到九〇年代末期，美式咖啡連鎖品牌進駐臺灣引進外帶現煮咖啡後，咖啡市場才出現了關鍵性的改變，讓喝咖啡變成日常生活的一部分。2018年時，臺灣平均每人一年喝下超過200杯咖啡，咖啡豆的進口量是2008年時的兩倍以上，而且咖啡商機還在持續成長中。

而南韓人比臺灣人更愛喝咖啡，南韓在亞洲地區的咖啡飲用量名列前茅，根據相關調查報告推估，南韓平均每人一年喝下超過500杯咖啡。咖啡幾乎是南韓日常生活中不可缺少的一部分，不只是上班族的必備品，也相當受學生喜愛。在南韓的校園中，不少學生常因熬夜看書導致白天精神不濟，於是飲用咖啡來提神與增加專注力，但攝取過量咖啡因會有頭暈、心跳加速、睡眠障礙等症狀，可能不利於青少年神經及心血管系統的發育。南韓政府擔心校園內飲用咖啡的風氣，對於未來整體的國民健康、醫療資源會產生負面影響，因此修法規定自2018年9月起，全面禁止在高中以下校園內販售含有咖啡因的飲料。

或許臺灣人的咖啡癮還沒有南韓這麼嚴重，不過我國已有相關法令規範高中以下校園內飲品及點心的販售項目，違規販售不符規範的商品將被主管機關要求下架，以避免類似的問題在臺灣發生。

49. 文中針對我國咖啡的相關敘述，下列何者最適當？
- (A)咖啡產品貿易總額超越茶產品
  - (B)咖啡豆的進出口貿易呈現出超
  - (C)飲用咖啡的習慣受到文化交流影響
  - (D)國小內販售咖啡將會遭受刑罰處罰
50. 根據文中內容判斷，南韓政府的作法與下列何項敘述最相符？
- (A)透過負向誘因影響校內師生的消費能力
  - (B)透過正向誘因影響校內商品的販售種類
  - (C)透過制度變革影響校內師生的消費能力
  - (D)透過制度變革影響校內商品的販售種類
51. 文中所提及南韓政府修改法律的目的，與下列我國的何項作法最類似？
- (A)受監護宣告者自行訂定的契約不具效力
  - (B)雇主不得因性別因素而對員工有差別待遇
  - (C)國小學童不得出入有害身心發展的不良場所
  - (D)家庭暴力受害者可聲請保護令以避免受到傷害

閱讀下列選文，回答第 52 至 54 題：

空氣汙染是當代世界嚴重的問題，過去的英國也曾深受空汙的危害。日本明治時代文學家夏目漱石在旅英期間的日記中寫道：「在倫敦的街上散步時吐了口痰，當我看到自己吐出一團全黑的物體時真是吃驚。幾百萬市民每天都吸著煤煙和塵埃，汙染著他們的肺。」當時人們以煤作為驅動蒸汽機以及家中暖爐、廚具的燃料，加上西歐地區盛行風的吹拂，使空氣汙染物不斷飄向城市的下風處，形成如圖(二十七)煙霧瀰漫的景觀。



十九世紀英國城市景觀

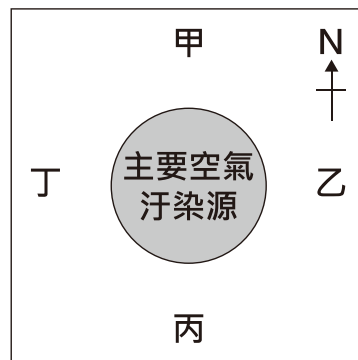
圖(二十七)

燃煤帶來的空氣汙染會影響健康，可能降低新生兒存活率，或是使得兒童發育遲緩。十九世紀時英國部分城市的居民居住區域分布也反映出貧富差距，資本家與中產階級為了尋求較好的生活品質，紛紛遷往城市中汙染較少的區域，而較為窮困的低技術勞動階級，因受工作地點和經濟考量所限，只能居住於汙染嚴重的區域。因此，思想家恩格斯在當時就發出「只有勞動階級才會呼吸受汙染的空氣」的不平之鳴。

52. 文中日本文學家描述的城市現象，與下列何者的關係最密切？

- (A)工業革命
- (B)宗教改革
- (C)啟蒙運動
- (D)文藝復興

53. 圖(二十八)是文中國家某空氣汙染嚴重的城市示意圖。已知圖中某處為低技術勞動階級居住的區域，根據上文及考量盛行風向的影響，此處最可能位於圖中甲、乙、丙、丁何處？



圖(二十八)

54. 文中關於城市居民居住區域分布所呈現的問題，是下列何者的關懷重點？

- (A)社會主義
- (B)民族主義
- (C)帝國主義
- (D)法西斯主義